

Ejemplo de una prueba parcial

Colegio _____

Departamento de Estudios Sociales

Profesor (a) _____

Nombre: _____

Sección: _____

Fecha: _____

Examen 1, I Trimestre año _____

octavo Año

Tiempo probable: 80 minutos

Total de Puntos: 58 27,5%

Puntos obtenidos: _____ %

Nota: _____

FIRMA DEL COORDINADOR _____

FIRMA DEL PADRE DE FAMILIA _____

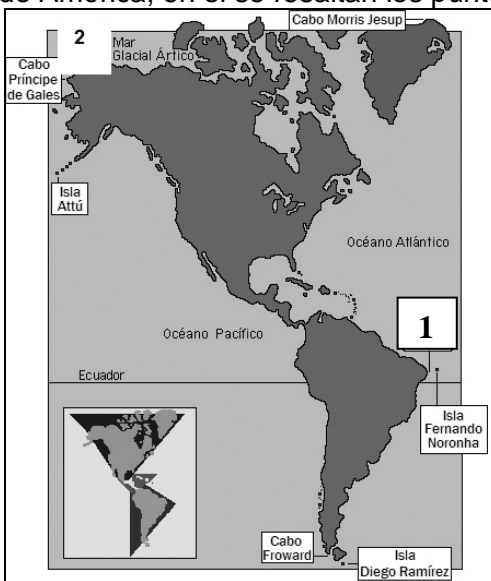
Temas e evaluar: Los Estudios Sociales, su importancia, ciencias preponderantes, disciplina auxiliares, método científico, generalidades cartográficas en la enseñanza de los Estudios Sociales. Los Estudiantes de adecuación pueden usar diccionario.

INSTRUCCIONES GENERALES:

- Resuelva lo que se le solicita en cada caso. Trabaje con orden y limpieza. Las respuestas deben aparecer con bolígrafo azul o negro no borrable. Para la parte de selección, indique la respuesta correcta en la parte que dice **respuestas, parte de selección única**. Debe rellenar con lapicero la letra de la opción correcta. Ninguna pregunta debe aparecer sin respuesta o con doble marca.
- **No se puede usar ningún tipo de corrector (líquido u otro). En caso de equivocarse trace una línea horizontal sobre la palabra que no desea que se revise.**
- El examen consta de cinco partes.
- Para cualquier reclamo una vez entregado el examen, tiene tres días hábiles.
- **Después de tres días de entregado el examen no se acepta reclamos por escrito según el reglamento de evaluación.**

I PARTE. SELECCIÓN ÚNICA. Valor 25 puntos. A continuación aparecen 16 enunciados con 4 opciones de respuesta, de las cuales solo UNA es correcta. Anote la respuesta correcta en la parte que dice Respuestas parte de selección.

1. Observa el siguiente mapa de América, en el se resaltan los puntos extremos

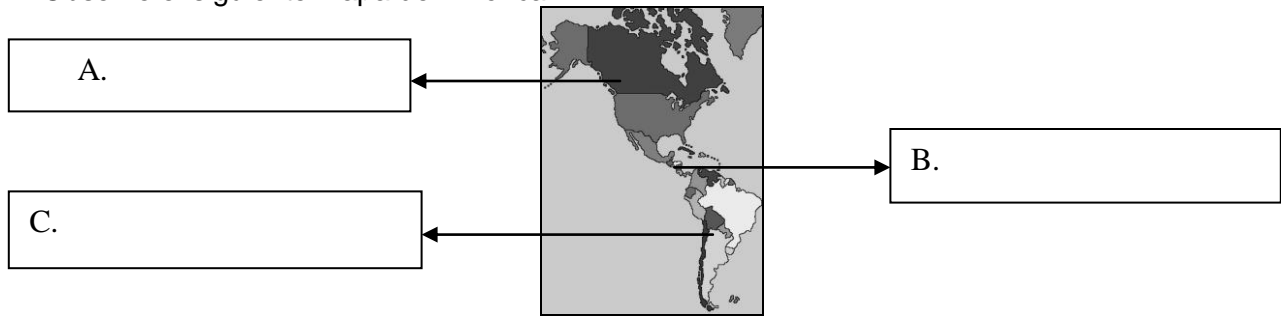


Los espacios 1 y 2 se completan correctamente con la opción

- A. Estrecho de Bering e islas Malvinas.
- B. Cabo de Hornos e islas Baffin.
- C. Punta Barrow y cabo Branco.
- D. Punta Aguja y cabo Frío.

Ejemplo de una prueba parcial

2. Observe el siguiente mapa de América



El anterior mapa señala la división geográfica los cuadros A, B y C se completan correctamente con la información de la opción

- A. Tierras Nuevas, tierras viejas y Tierras de relleno.
 - B. América anglosajona, Centroamérica y América Latina.
 - C. América del Norte, América Central y América Del Sur.
 - D. América Anglosajona, Centroamérica y América del meridional.
3. Cuando se habla de la división climática de América se refiere a la información de la opción
- A. América latina y América Anglosajona.
 - B. Tierras de relleno, zona tórrida, zona polar.
 - C. Tierras nuevas, tierras de relleno y Tierras viejas.
 - D. Regiones polares, regiones de las zonas templadas, regiones intertropicales.
4. Lea la siguiente información

División de América _____

- ❖ **Inuit.** Se ubica en las regiones polares del norte del continente, donde habitaron los esquimales.
- ❖ **Norteamérica.** Abarca la mayoría de los territorios de Estados Unidos y Canadá; aquí vivieron los denominados Pieles Rojas, (Cheroqui, Apache, Cheyen, Siux y Atabasco, entre otras culturas).
- ❖ **Mesoamérica.**
- ❖ **Área Intermedia.**
- ❖ **Área Andina.**
- ❖ **América Austral - Cono Sur**
- ❖ **Amazonas.**

La información anterior corresponde a la división de América ubicada en la opción

- A. Política.
- B. Climática.
- C. Geocultural.
- D. Colonial.

5. Lea las siguientes características

- Dirigidos por un virrey.
- Se asentaron en los lugares con abundantes riquezas minerales y puntos estratégicos
- contaban con muchas poblaciones aborígenes.

Las características anteriores corresponde a la división colonial de América denominad

- A. Cabildos.
- B. Capitanías.
- C. Virreinos.
- D. Intendencias.

6. Los territorios dirigidos por un jefe militar que tenía el poder civil y judicial durante la colonia corresponden a la opción

- A. Cabildos.
- B. Capitanías.
- C. Virreinos.
- D. Intendencias.

Ejemplo de una prueba parcial

7. Durante la colonia dicha institución tenían a su cargo la administración de territorios más pequeños, como el caso de Costa Rica y Nicoya, dicha institución corresponde a la opción
- A. Virreinos y cabildos.
 - B. Gobernaciones e intendencias.
 - C. Capitanías y alcaldías mayores.
 - D. Gobernaciones y alcaldías mayores.

Tema El relieve americano

8. El personaje que propuso la Deriva Continental corresponde a la opción
- A. Alfred Wegener.
 - B. Paul Rivet.
 - C. Florentino Ameghino.
 - D. Alex Hrdlicka.
9. El primer super - continente que existió recibe el nombre de _____
- A. Panthalassa.
 - B. Gondwana.
 - C. Laurasia.
 - D. Pangea.
10. La teoría que explica que las cordilleras submarinas (dorsales oceánicas), por medio de la intensa actividad volcánica que experimentan, crean nuevo fondo marítimo lo que provoca que las tierras emergidas se acerquen, alejen o pierdan su tamaño se denomina
- A. Convergente.
 - B. Deriva Continental.
 - C. Tectónica Integral de placas.
 - D. Expansión del fondo oceánico.
11. Las tierras antiguas expuestas a procesos erosivos por miles de años, son bajas y con formas más redondeadas reciben el nombre de
- A. Cratónes o escudos.
 - B. Tierras de relleno.
 - C. Tierras altas.
 - D. Llanuras.
12. Los movimientos _____ son desplazamientos verticales, de acceso o descenso, de la corteza ocasionados por el tectonismo o por la erosión; pues la pérdida de materiales produce una disminución del peso, con lo que se origina un movimiento de las rocas hacia arriba.
- El espacio en blanco se completa correctamente con la opción
- A. Erosivos.
 - B. Volcánicos.
 - C. Orogénicos.
 - D. Epirogénicos.
13. El proceso mediante el cual se formaron los altos sistemas montañosos del planeta recibe el nombre de
- A. Epirogénicos.
 - B. Orogénicos.
 - C. Tectónicos.
 - D. Convectivos.
14. En América las tierras nuevas están ubicadas totalmente al
- A. Norte.
 - B. Este.
 - C. Sur.
 - D. Oeste.

Ejemplo de una prueba parcial

15. En América un ejemplo de cráton o escudos corresponde a la opción
- A. Rocallosas.
 - B. Andes.
 - C. Montes Apalaches.
 - D. Amazonas.

16. Lea la siguiente información

“El escudo es una penillanura de granito, gneis (cuarzo, feldespato y mica) y pizarras de rocas duras del precámbrico, que se encuentra cubierto por materiales sedimentarios procedentes de la demudación de los granitos, por lo que su suelo es arenoso. Abarca una extensión de 5 millones de km² de roca muy erosionada y ondulada, recorrida por muchos ríos que son utilizados para producir energía hidroeléctrica.”

La información anterior corresponde a

- A. El escudo brasileño.
- B. El escudo canádico.
- C. Plataforma de Yucatán.
- D. Montes Apalaches.

17. Lea la siguiente información

- Se ubica en el extremo oriental de América del Sur.
- Es una enorme masa continental de aproximadamente 800 000 km².
- Formada en el Paleozóico, hace aproximadamente 550 millones de años.
- Formó parte de la región occidental de Gondwana (parte sur de la Pangea).

Las características anteriores corresponden a la Tierra vieja llamada

- A. Península de Yucatán.
- B. Macizo brasileño.
- C. Macizo patagónico.
- D. Macizo del Orinoco.

18. Lea la siguiente información

_____ se extiende desde el océano Glaciar Ártico, al norte, hasta las costas del Golfo de México, al sur y los Montes Apalaches, al este y las Rocallosas, al oeste. En Canadá recibe el nombre de Gran Pradera y en los Estados Unidos llanuras Centrales, donde ocupan la cuenca de los ríos Missouri y Misisipi. La mayoría de los ríos que ahí se ubican son utilizados como medio de transporte.

El espacio en blanco se completa correctamente con la opción

- A. Llanura del Amazonas.
- B. Llanura Chaco Pampeana.
- C. Llanura de América Central.
- D. Llanura Central Norteamericana.

19. El _____ es un material geológico sedimentario, compuesto por partículas muy finas que son transportadas por el viento. Es de color amarillento y está formado por silicio, piedra caliza (carbonato de calcio), detritos orgánicos y arcillas que contribuyen a aumentar la fertilidad del suelo y el subsuelo.

- A. Loess.
- B. Arena.
- C. Humus.
- D. Granito.

Ejemplo de una prueba parcial

20. Lea las siguientes características

- un área aluvional localizada al este de la cordillera de los Andes que tiene su origen en la sedimentación continental (volcánica, fluvial y eólica).
- Es una planicie ondulada, con depresiones y cerros que gana altura conforme se acerca a los Andes.
- posee un clima tropical al norte y subtropical al sur.

Las características anteriores corresponden a la llanura

- A. Platense.
- B. Amazonas.
- C. El gran Chaco.
- D. Centroamericana.

21. Actividades económicas

- ⇒ Es el pulmón del mundo y de la relevancia ecológica y ambiental
- ⇒ la economía es variada: pesca, ganadería, extracción de distintas especies madereras, aceites, resinas, caucho, chicle y plantas para la elaboración de fármacos; cultivo de yuca, caña de azúcar, arroz, café, maíz y plátano, entre otros; extracción de cobre, manganeso, plomo, zinc, estaño, hierro, antimonio, tungsten, oro y plata (sobre los lechos de ríos y las terrazas aluviales), carbón, petróleo, gas natural, piedras preciosas y semipreciosas y otros; turismo ecológico, elaboración de artesanías y producción de energía hidroeléctrica.

Las actividades económicas anteriores corresponden a

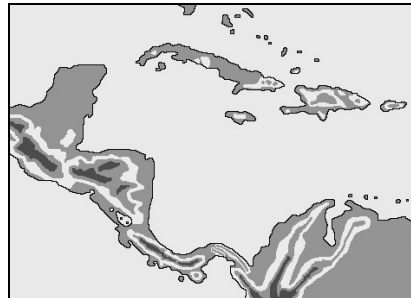
- A. Platense.
- B. Amazonas.
- C. El gran Chaco.
- D. Centroamericana.

22. Son espacios preferidos por la humanidad para asentarse y construir sus ciudades; sus topografías, casi planas, favorecen la construcción de vías de infraestructura y los ríos que las recorren favorecen la irrigación y la producción de energía hidroeléctrica, el asentamiento de industrias y el desarrollo del comercio.

Los lugares que describe el párrafo anterior se conocen con el nombre de

- A. Cratones.
- B. Tierras Viejas.
- C. Tierras nuevas.
- D. Tierras de rellenos.

23. Observe el siguiente mapa



El mapa anterior corresponde a

- A. América Central.
- B. América del Norte.
- C. América del Sur.
- D. América.

Ejemplo de una prueba parcial

24. Observe el siguiente mapa



El espacio oscurecido de negro corresponde a la llanura

- A. Central norteamericana.
 - B. Centroamericana.
 - C. Chaco-pampeana.
 - D. Amazonas.
25. Las Tierras nuevas de América en el norte recibe el nombre de
- A. Rocallosas.
 - B. Centroamericanas.
 - C. Andes.
 - D. Apalaches.

I PARTE SELECCIÓN ÚNICA VALOR 25 PUNTOS. Marque con una equis la letra que corresponde a la respuesta correcta.

1	A	B	C	D	10	A	B	C	D	19	A	B	C	D
2	A	B	C	D	11	A	B	C	D	20	A	B	C	D
3	A	B	C	D	12	A	B	C	D	21	A	B	C	D
4	A	B	C	D	13	A	B	C	D	22	A	B	C	D
5	A	B	C	D	14	A	B	C	D	23	A	B	C	D
6	A	B	C	D	15	A	B	C	D	24	A	B	C	D
7	A	B	C	D	16	A	B	C	D	25	A	B	C	D
8	A	B	C	D	17	A	B	C	D					
9	A	B	C	D	18	A	B	C	D					

III Parte. Valor 18 puntos. Respuesta corta. Responda en forma breve lo que se le solicita. Cada respuesta correcta vale un punto.

1. Mencione tres tipos de placas terrestres que existen.(3)

- a. _____
- b. _____

2. Cite tres procesos de formación del relieve americano. (3)

- a. _____
- b. _____
- c. _____

Ejemplo de una prueba parcial

3. Anote tres características del Macizo Guayanés. (3).

- a. _____
- b. _____
- c. _____

4. Escriba el nombre de las tres nombres de Tierras viejas de América. (3)

- a. _____
- b. _____
- c. _____

5. Escriba el nombre de tres puntos geográficos correspondientes a Tierras nuevas de América. (3)

- a. _____
- b. _____
- c. _____

6. Escriba tres ejemplos de las llanuras sedimentarias de América. 3 puntos

- a. _____
- b. _____
- c. _____

V PARTE. PRODUCCIÓN. Valor 16 puntos. Conteste con claridad y precisión las siguientes preguntas.

1. Explique con tres ideas cuál es la importancia de las tierras nuevas de América. 3 puntos.

1.
2.
3.

2. Explique tres características de la cordillera costera de América. 3 puntos.

1.
2.
3.

3. Explique con dos ideas cuál es la importancia socioeconómica de las rocallosas. 4 puntos.

1.

Ejemplo de una prueba parcial

2.

5. Explique las tres secciones de la Cordillera de los Andes y anote un ejemplo de un punto geográfico para cada sector. Valor 6 puntos

1.

2.

3.

Los seres humanos somos tan pequeños y limitados que nos resultaría imposible llegar a Dios por nuestras propias fuerzas. Pero él, en su infinita bondad, baja para tendernos la mano". Mucha Suerte.