

Geografía de América

Nivel:

8 año

Objetivo:

Distinguir las características físico-geográficas, socioeconómicas y culturales del continente americano.

Contenido:

Relieve: evolución, características físico-geográficas y socio-económicas de: Escudos o cratones caledonianos y hercinianos (tierras viejas): levantamiento alpino (tierras nuevas) y llanuras sedimentarias. (tierras de relleno)

Autor:

Gustavo Adolfo Ortiz Estrada.

Libro:

Estudios Sociales 8, páginas 17-23



- Observe el siguiente croquis.



- Escriba el nombre de las estructuras del relieve mostradas en el croquis anterior.

1. _____	4. _____
2. _____	5. _____
3. _____	6. _____

- Observe las siguientes fotografías y en el círculo respectivo escriba el número que identifica el nombre de la tierra vieja a la cual pertenece.



Fotografías tomas de Internet

- En cada recuadro, Escriba la información que se le solicita.

Características físicas

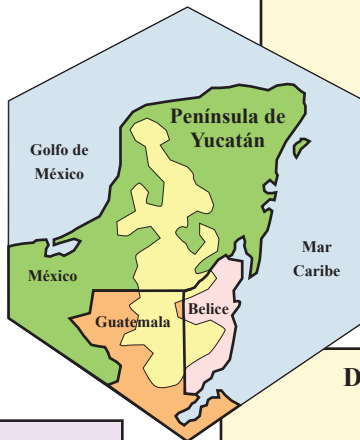
Economía

Datos de interés



Características físicas

Características físicas



Datos de interés



Datos de interés

Economía

Economía

Características físicas	Características físicas	Características físicas
Datos de interés		Datos de interés
	Datos de interés	Economía
Economía	Economía	

- Enumere tres características físicas comunes a las tierras viejas.

1. _____
2. _____
3. _____

- Explique por qué las tierras viejas son económicamente importantes.

- **Resuelva los siguientes ítemes de selección. Escriba una equis sobre la letra que antecede a la afirmación que complementa correctamente cada enunciado.**

Observe el siguiente croquis.



- La estructura del relieve señalado con el número 1 se denomina
 - macizo Patagónico.
 - escudo Laurentino.
 - montes Apalaches.
 - escudo Brasileño.
- Los escudos numerados con el 2 y el 6 se denominan
 - Laurentino y Guayanés.
 - Patagónico y Apalache.
 - Brasileño y Canádico.
 - Yucatán y Guayanés.
- Los Apalaches y el macizo Guayanés aparecen señalados con los numeros
 - 1 y 6
 - 2 y 3
 - 3 y 5
 - 5 y 6
- Las tierras viejas tienen una forma redondeada y poseen poca altura porque
 - se formaron por el choque de placas tectónicas.
 - se formaron por la sedimentación.
 - no tienen vulcanismo activo.
 - están altamente erosionadas.
- En el escudo Laurentino existen ricos yacimientos minerales y
 - tierras fértiles para la producción de café.
 - rocas calcarias que filtran el agua.
 - pastos aptos para la ganadería.
 - bosques de coníferas.
- La presencia de hierro y carbón, que favoreció el desarrollo industrial de Nueva York y Boston, muestra la importancia
 - de los montes Apalaches
 - del macizo Guayanés.
 - del escudo Brasileño.
 - del escudo Canádico.
- ¿Cuál estructura de las tierras viejas americanas posee tierras muy fértiles, aptas para la producción del café?
 - Península de Yucatán.
 - Macizo Patagónico.
 - Macizo Guayanés.
 - Escudo Brasileño.
- Uno de los bloques continentales más viejos de la tierra se ubica en
 - el macizo de la Patagonia.
 - la península de Yucatán.
 - el escudo Laurentino.
 - el macizo Guayanés.
- La crianza de ganado vacuno y lanar y las plantaciones de frutas se dan en
 - el macizo de la Patagonia.
 - los montes Apalaches
 - del escudo Brasileño.
 - del escudo Canádico.
- Mesetas de gran altura y enormes caídas de agua son propias
 - de la península de Yucatán.
 - del macizo Patagónico.
 - del macizo Guayanés.
 - del escudo Brasileño.