

Geografía de América

Nivel:

8 año

Objetivo:

Distinguir las características físico-geográficas, socioeconómicas y culturales del continente americano.

Contenido:

Relieve: evolución, características físico-geográficas y socio-económicas de: Escudos o cratones caledonianos y hercinianos (tierras viejas): levantamiento alpino (tierras nuevas) y llanuras sedimentarias. (tierras de relleno)

Autor:

Gustavo Adolfo Ortiz Estrada.

Libro:

Estudios Sociales 8, páginas 34-42

• Defina los siguientes conceptos:

• **Erosión:** _____

• **Llanura:** _____

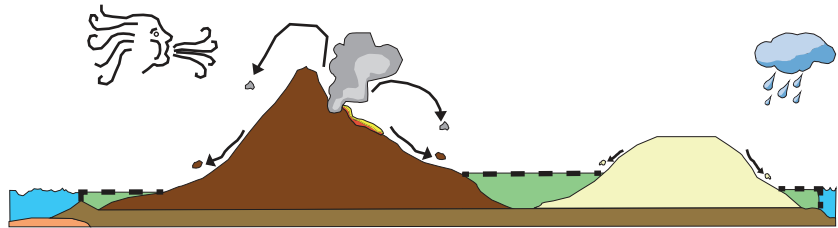
• **Oquedad:** _____

• **Relleno:** _____

• **Sedimento:** _____

• **Valle:** _____

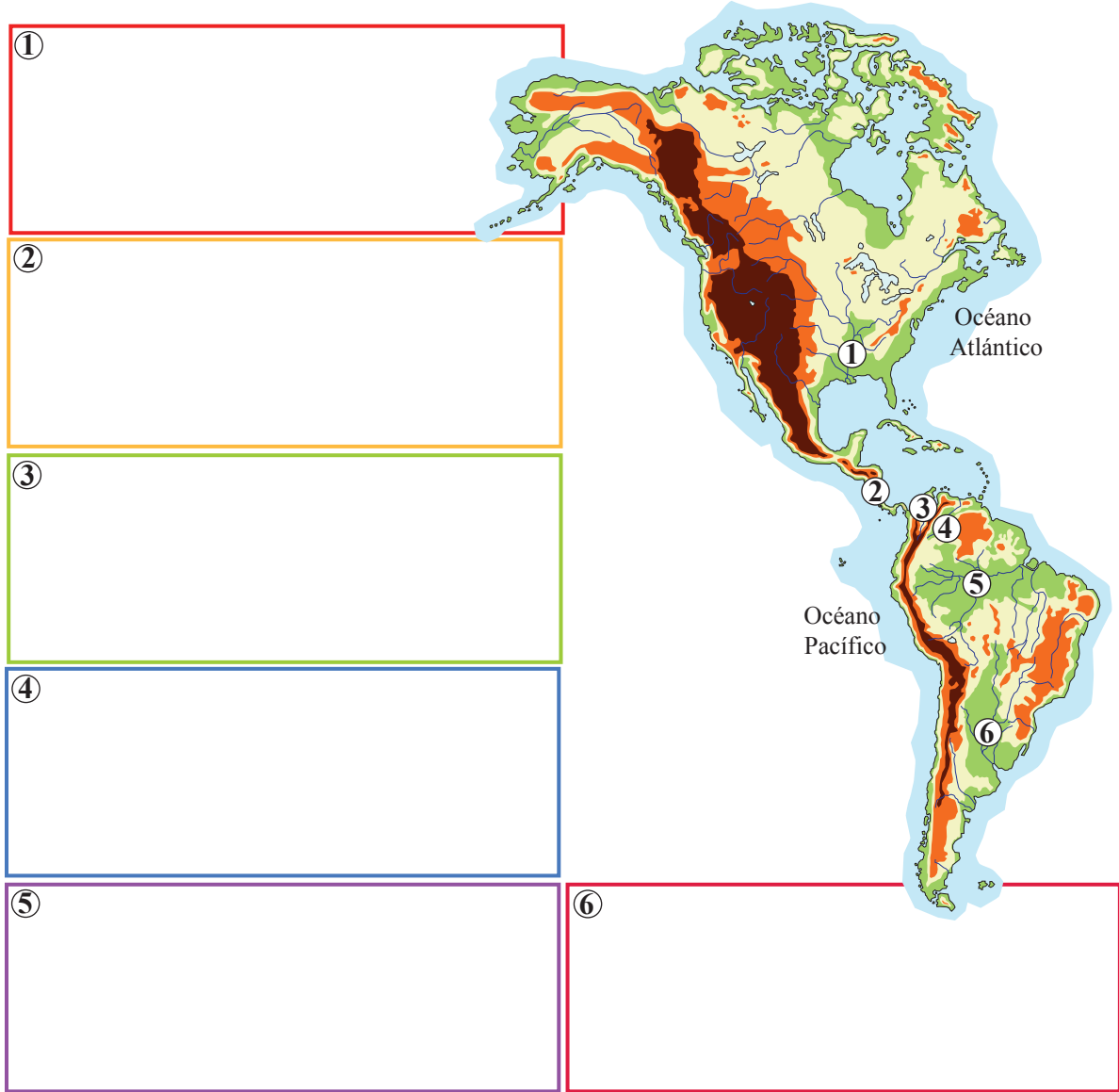
• Con base en el siguiente dibujo explique el origen de las tierras de relleno.



• Explique porque las tierras de relleno son las preferidas por las personas para establecer sus ciudades.

• ¿Por qué otras razones son importantes las tierras de relleno?

- Observe el siguiente croquis y escriba el nombre y dos características de cada una de las llanuras señaladas.



- Complete el siguiente cuadro comparativo sobre las llanuras americanas. En cada caso escriba una semejanza o una diferencia económica o física.

Gran Llanura Central Norteamericana	Llanuras Centroamericanas	Amazonas / Amazonia	De la Plata / Platense / Chacopampeana

- Observe las siguientes ilustraciones e indique en cuál o cuáles llanuras americanas se desarrollan, de manera preponderante, esas actividades económicas.







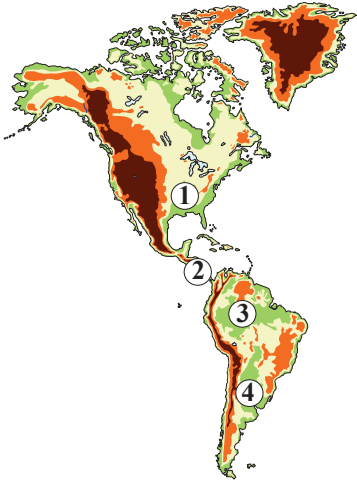






- **Resuelva los siguientes ítemes de selección. Escriba una equis sobre la letra que antecede a la afirmación que complementa correctamente cada enunciado.**

Observe el siguiente croquis.



- Las llanuras tropicales que están dedicadas a la ganadería de engorde y a agricultura de plantación aparecen señaladas en el croquis con el número
 - 1
 - 2
 - 3
 - 4
- Las llanuras del Amazonas y Platense son señaladas en el croquis con los números
 - 1 y 2
 - 2 y 3
 - 2 y 4
 - 3 y 4
- A diferencia de la mayoría de las llanuras latinoamericanas, las angloamericanas
 - se dedican a la producción de frutas tropicales.
 - están dedicadas a la agricultura extensiva.
 - son trabajadas de manera rudimentaria.
 - están altamente mecanizadas.
- El café es el producto principal
 - del Valle del Cauca-Magdalena.
 - de la Gran Llanura Central.
 - de la llanura Platense.
 - del Amazonas.
- Algunos ríos americanos son navegables, gracias a ello, favorecen el transporte de mercancías desde los centros de producción hasta los puertos marítimos; por ejemplo, los que recorren las llanuras
 - Central Norteamericana y el Amazonas.
 - litorales del Pacífico americano.
 - del Orinoco y De la Plata.
 - centroamericanas.
- El desarrollo del sector agropecuario en los denominados cinturones productivos se da en
 - la llanura Chaco-pampeana.
 - la Gran Llanura Central.
 - los llanos del Orinoco.
 - el Amazonas.
- El cultivo de girasoles, caraotas, yuca, raíces, caña de azúcar, ajonjolí, café, maíz, arroz, sorgo, maní, girasol y algodón y la ganadería de engorde se desarrolla en;
 - el valle del Cauca-Magdalena.
 - las llanuras centroamericanas.
 - los llanos del Orinoco.
 - la llanura Platense.
- ¿Cuál es la llanura americana que, por su proceso formativo, posee bastas zonas de acumulación en el pie de monte y terrazas, cubiertas por tierras muy fértiles, como el Matto Grosso?
 - Gran Lanura Central.
 - Cauca-Magdalena.
 - Amazonas.
 - Platense.
- ¿Cuál llanura que se divide en la Pampa y el Gran Chaco y posee tierras aptas para la ganadería y la producción cerealera?
 - Gran Lanura Central.
 - Llanos del Orinoco.
 - Amazonas.
 - Platense.