

Geografía de América

Nivel:

8 año

Objetivo:

Distinguir las características físico-geográficas, socioeconómicas y culturales del continente americano.

Contenido:

Origen del nombre América. Ubicación y características generales.

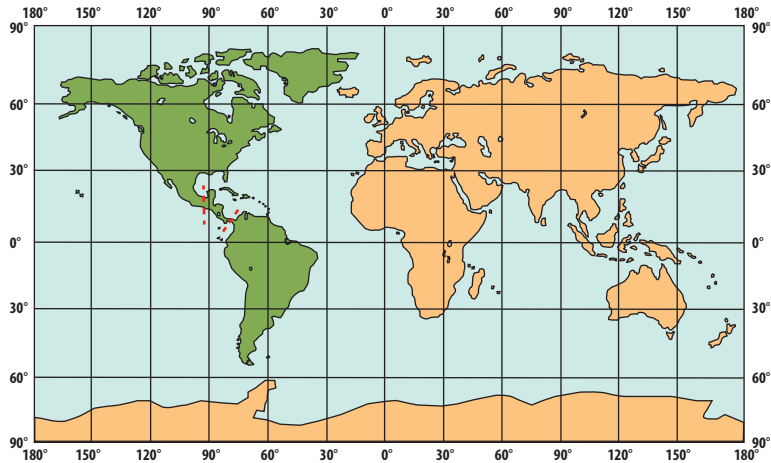
Autor:

Gustavo Adolfo Ortiz Estrada.

Libro:

Estudios Sociales 8,
páginas 1-12

- **Observe el siguiente croquis.**



- **Resuelva los siguientes ejercicios:**

1. ¿Cuál es la ubicación hemisférica de América?

2. ¿Cuáles ventajas se pueden deducir de esa ubicación geográfica?

3. ¿Cuál es la localización exacta de América?

4. ¿Tiene el continente Americano una posición estratégica en el mundo? ¿Por qué?

5. ¿Cuál forma geométrica tiene el continente americano?

6. De acuerdo con esa forma geométrica, ¿en cuántas partes se puede dividir el continente americano?

- Observe el siguiente croquis.



- Con base en lo observado en el croquis anterior, indique:

1. Los límites de América:

Norte: _____ Sur: _____

Este: _____ Oeste: _____

2. Los puntos extremos continentales de América:

Norte: _____ Sur: _____

Este: _____ Oeste: _____

3. Los puntos extremos insulares de América:

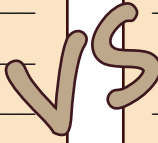
Norte: _____ Sur: _____

Este: _____ Oeste: _____

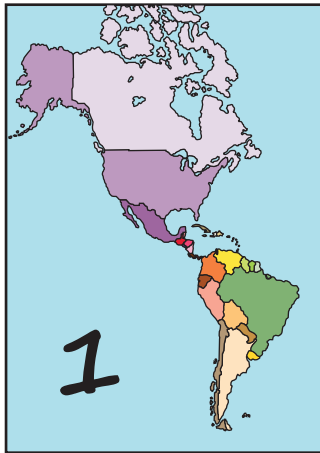
4. Con base en la simbología del color, ¿cuántas estructuras del relieve se distinguen? ¿Cuáles son?

- Escriba su opinión sobre las teorías sobre el nombre del continente americano.

Ammerrique / Amerrisque	América



- Observe los siguientes croquis y escriba el nombre de la división a que se refieren y una breve explicación sobre cada una de ellas.



1. _____

2. _____

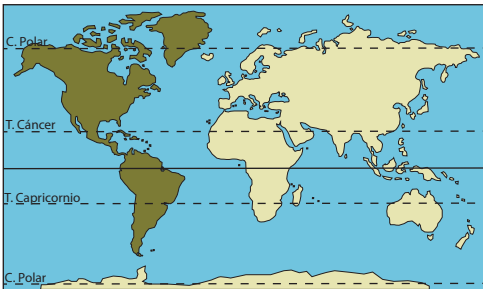
3. _____

- ¿Cuáles son los nombres correctos para referirse a los países que se ubican en América Media?

- **Resuelva los siguientes ítemes de selección. Escriba una equis sobre la letra que antecede a la afirmación que complementa correctamente cada enunciado.**

1. El continente americano
 - A) tiene tierras en los cuatro hemisferios.
 - B) se localiza en el hemisferio oriental.
 - C) se ubica en el hemisferio occidental.
 - D) se ubica en el hemisferio este.

2. Observe el siguiente croquis.



Como se observa, América se extiende, prácticamente, desde el Polo Norte hasta el Polo Sur. ¿Cuál consecuencia se desprende de esta ubicación geográfica?

- A) Es el continente de mayor extensión longitudinal.
- B) Posee tierras en todas las zonas climáticas planetarias.
- C) No tiene estaciones climáticas definidas.
- D) Tiene todas las estructuras del relieve.

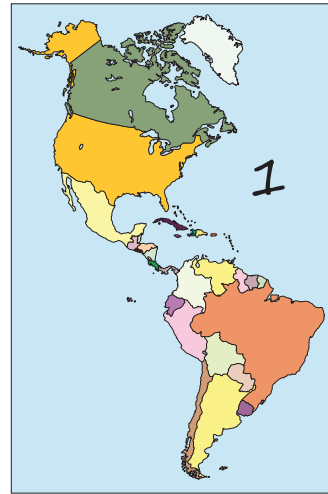
3. Observe el siguiente croquis.



¿Cuál división de América se muestra en el croquis? América

- A) del Norte.
- B) del Sur.
- C) Media.
- D) Latina.

4. Observe el siguiente croquis.



El número 1 muestra el límite este de América, que se denomina

- A) Océano Atlántico.
- B) Océano Pacífico.
- C) Océano Ártico.
- D) Mar Caribe.

5. El nombre de América, rinde homenaje

- A) al cartógrafo que elaboró los primeros mapas del continente.
- B) a los primeros pobladores del continente.
- C) al primer español que llegó al continente.
- D) a los Reyes Católicos

6. De acuerdo con la división geográfica, América Central Ístmica se extiende desde el istmo de Tehuantepec hasta

- A) la Depresión del Atrato.
- B) las Antillas Mayores.
- C) la Tierra del Fuego.
- D) Cabo de Hornos.

7. El extremo sur continental de América es

- A) Isla Fernando Noronha
- B) Cabo de Hornos
- C) Cabo Froward
- D) Isla Atú