

Modos de Vida

Nivel:

10 año

Objetivo:

Analizar las características del modo de vida en las zonas altas, valles, llanuras y desiertos, y la problemática de la explotación de los recursos naturales en el orbe.

Tema:

Ubicación de las masas continentales (América, Europa, África, Australia, Oceanía y Asia), oceánicas (Atlántico, Índico, Pacífico y mares (Del Norte, Caribe y Mediterráneo).

Autor:

Gustavo Adolfo Ortiz Estrada.

Libro:

Estudios Sociales 10,
páginas 7-12

- Observe el siguiente croquis.



- **Responda las siguientes preguntas:**

1. ¿Cuál es el continente de mayor extensión latitudinal?
_____.
2. ¿Cuál es el continente de mayor extensión longitudinal?
_____.
3. ¿Cuál océano separa a América de Europa y África?
_____.
4. ¿Cuál océano se ubica al oeste de América y al este de Asia?
_____.
5. ¿Cuál océano se ubica al sur de Asia, el este de África u el oeste de Australia?
_____.
6. ¿Cuál mar sirve de límite a Europa, Asia y África?
_____.
7. ¿Cuál mar se ubica entre Centro América y las Antillas?
_____.
8. ¿Cuál mar se ubica al noreste del océano Atlántico?
_____.

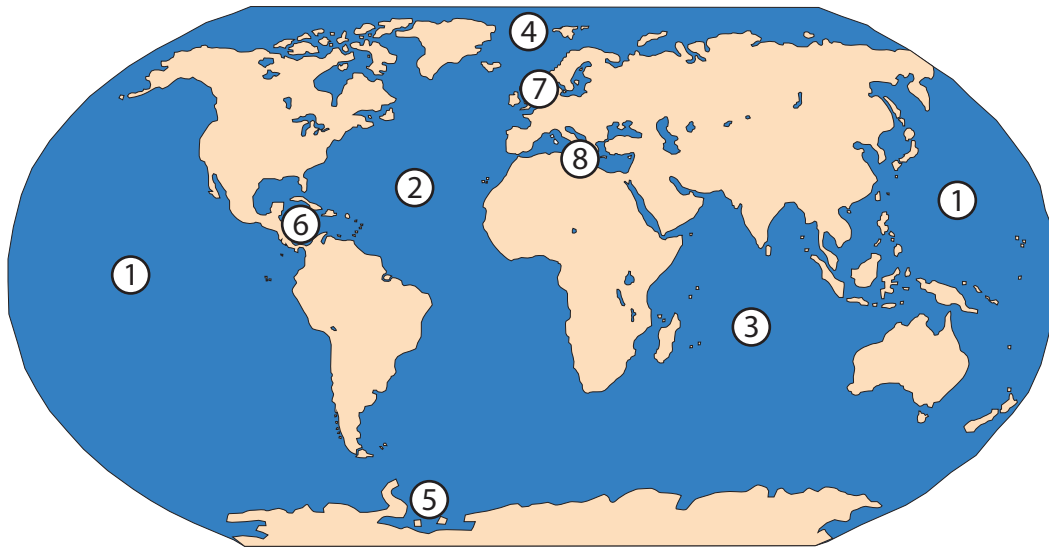
- Escriba el nombre de los continentes en el siguiente croquis.



- Con base en la información que aparece en la página 7, complete el siguiente cuadro comparativo sobre los continentes.

Contiente	Ubicación	Extensión km²	Características
África			
América			
Asia			
Europa			
Oceanía			

- Escriba el nombre de los océanos y mares que se mencionan en el libro de texto.



Océanos

Mares

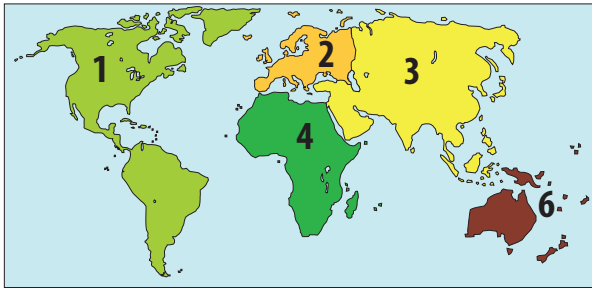
- | | |
|----------|----------|
| 1. _____ | 6. _____ |
| 2. _____ | 7. _____ |
| 3. _____ | 8. _____ |
| 4. _____ | |
| 5. _____ | |

- Con base en la información que aparece en las páginas 8 y 11, responda las siguientes preguntas.

1. ¿En qué se diferencian los océanos de los mares?
_____.
2. ¿Cuál es el océano que presenta el mayor tráfico comercial del mundo?
_____.
3. ¿Cuál es la importancia de los mares _____?
Caribe: _____.
Del Norte: _____.
Mediterráneo: _____.
4. ¿Cuál característica identifica a los océanos _____?
Índico: _____.
Ártico: _____.
Pacífico: _____.
Antártico: _____.
Atlántico: _____.

- **Resuelva los siguientes ítemes de selección. Escriba una equis sobre la letra que antecede a la afirmación que complementa correctamente cada enunciado.**

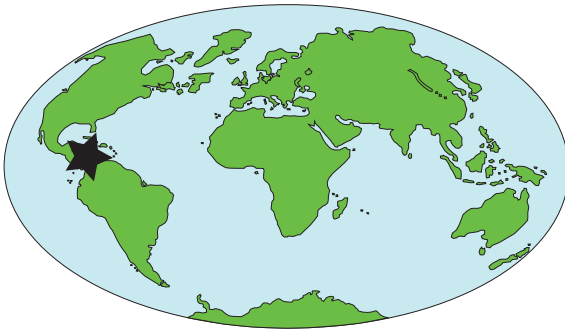
1. Observe el siguiente croquis.



Los números 3 y 4 muestran la ubicación de los continentes

- A) americano y europeo.
- B) europeo y africano.
- C) asiático y Oceanía.
- D) africano y asiático.

2. Observe el siguiente croquis.



En el croquis anterior la estrella se ubica sobre el

- A) Mar Mediterráneo.
- B) océano Atlántico.
- C) océano Índico.
- D) Mar Caribe.

3. ¿Cuál Océano se ubica entre Europa, África y América y es el de mayor tráfico comercial del mundo?

- A) Atlántico.
- B) Pacífico.
- C) Ártico.
- D) Índico.

4. Observe el siguiente croquis.



¿Cuál océano se muestra en el croquis anterior?

- A) Atlántico.
- B) Antártico.
- C) Pacífico.
- D) Índico.

5. Lea la siguiente enumeración.

- Se localiza entre Gran Bretaña, las penínsulas Escandinava y Jutlandia, Alemania y los Países Bajos.
- Es el mar de mayor tráfico comercial del mundo.
- Tiene una posición geopolítica estratégica.

¿A cuál mar corresponde la enumeración anterior?

- A) Mediterráneo.
- B) Del Norte.
- C) Caribe.
- D) Rojo.

6. El continente que, con más de 30 millones de km², se localiza entre los océanos Atlántico e Indico y el Mar Mediterráneo se denomina

- A) América.
- B) Europa.
- C) África.
- D) Asia.