

## Continentes, océanos y mares

**Nivel:**

10 año

**Objetivo:**

Analizar las características del modo de vida en las zonas altas, valles, llanuras y desiertos, y la problemática de la explotación de los recursos naturales en el orbe.

**Tema:**

Ubicación de las masas continentales (América, Europa, África, Australia, Oceanía y Asia), oceánicas (Atlántico, Índico, Pacífico) y mares (Del Norte, Caribe y Mediterráneo).

**Autor:**

Gustavo Adolfo Ortiz  
Estrada.

**Libro:**

Estudios Sociales 10,  
páginas 7-12

- Observe el siguiente croquis.



- **Responda las siguientes preguntas:**

1. ¿Cuál es el continente de mayor extensión latitudinal?  
\_\_\_\_\_.
2. ¿Cuál es el continente de mayor extensión longitudinal?  
\_\_\_\_\_.
3. ¿Cuál océano separa a América de Europa y África?  
\_\_\_\_\_.
4. ¿Cuál océano se ubica al oeste de América y al este de Asia?  
\_\_\_\_\_.
5. ¿Cuál océano se ubica al sur de Asia, el este de África u el oeste de Australia?  
\_\_\_\_\_.
6. ¿Cuál mar sirve de límite a Europa, Asia y África?  
\_\_\_\_\_.
7. ¿Cuál mar se ubica entre Centro América y las Antillas?  
\_\_\_\_\_.
8. ¿Cuál mar se ubica al noreste del océano Atlántico?  
\_\_\_\_\_.

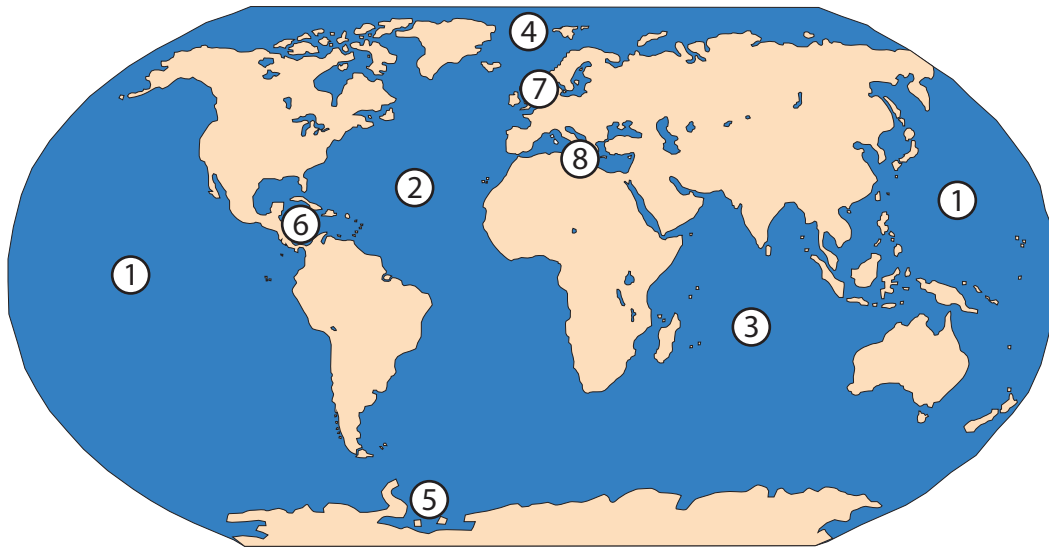
- Escriba el nombre de los continentes en el siguiente croquis.



- Con base en la información que aparece en la página 7, complete el siguiente cuadro comparativo sobre los continentes.

| <b>Contiente</b> | <b>Ubicación</b> | <b>Extensión km<sup>2</sup></b> | <b>Características</b> |
|------------------|------------------|---------------------------------|------------------------|
| <b>África</b>    |                  |                                 |                        |
| <b>América</b>   |                  |                                 |                        |
| <b>Asia</b>      |                  |                                 |                        |
| <b>Europa</b>    |                  |                                 |                        |
| <b>Oceanía</b>   |                  |                                 |                        |

- Escriba el nombre de los océanos y mares que se mencionan en el libro de texto.



Océanos

Mares

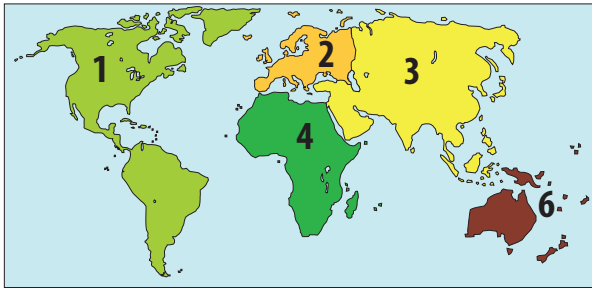
- |          |          |
|----------|----------|
| 1. _____ | 6. _____ |
| 2. _____ | 7. _____ |
| 3. _____ | 8. _____ |
| 4. _____ |          |
| 5. _____ |          |

- Con base en la información que aparece en las páginas 8 y 11, responda las siguientes preguntas.

1. ¿En qué se diferencian los océanos de los mares?  
\_\_\_\_\_.
2. ¿Cuál es el océano que presenta el mayor tráfico comercial del mundo?  
\_\_\_\_\_.
3. ¿Cuál es la importancia de los mares \_\_\_\_\_?  
Caribe: \_\_\_\_\_.  
Del Norte: \_\_\_\_\_.  
Mediterráneo: \_\_\_\_\_.
4. ¿Cuál característica identifica a los océanos \_\_\_\_\_?  
Índico: \_\_\_\_\_.  
Ártico: \_\_\_\_\_.  
Pacífico: \_\_\_\_\_.  
Antártico: \_\_\_\_\_.  
Atlántico: \_\_\_\_\_.

- **Resuelva los siguientes ítemes de selección. Escriba una equis sobre la letra que antecede a la afirmación que complementa correctamente cada enunciado.**

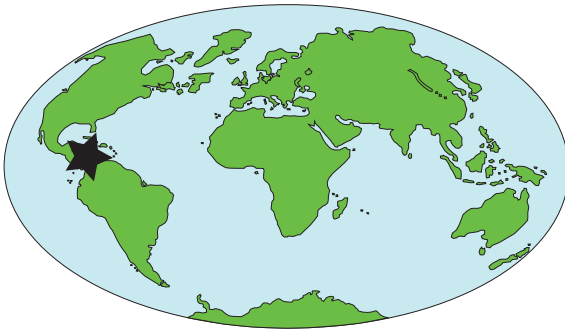
1. Observe el siguiente croquis.



Los números 3 y 4 muestran la ubicación de los continentes

- A) americano y europeo.
- B) europeo y africano.
- C) asiático y Oceanía.
- D) africano y asiático.

2. Observe el siguiente croquis.



En el croquis anterior la estrella se ubica sobre el

- A) Mar Mediterráneo.
- B) océano Atlántico.
- C) océano Índico.
- D) Mar Caribe.

3. ¿Cuál Océano se ubica entre Europa, África y América y es el de mayor tráfico comercial del mundo?

- A) Atlántico.
- B) Pacífico.
- C) Ártico.
- D) Índico.

4. Observe el siguiente croquis.



¿Cuál océano se muestra en el croquis anterior?

- A) Atlántico.
- B) Antártico.
- C) Pacífico.
- D) Índico.

5. Lea la siguiente enumeración.

- Se localiza entre Gran Bretaña, las penínsulas Escandinava y Jutlandia, Alemania y los Países Bajos.
- Es el mar de mayor tráfico comercial del mundo.
- Tiene una posición geopolítica estratégica.

¿A cuál mar corresponde la enumeración anterior?

- A) Mediterráneo.
- B) Del Norte.
- C) Caribe.
- D) Rojo.

6. El continente que, con más de 30 millones de km<sup>2</sup>, se localiza entre los océanos Atlántico e Índico y el Mar Mediterráneo se denomina

- A) América.
- B) Europa.
- C) África.
- D) Asia.